

КАРТОГРАФИЧЕСКИЙ ПРАКТИКУМ: РАЗБОР ЗАДАНИЙ 9 – 12 ЕГЭ 2026 ПО ИСТОРИИ

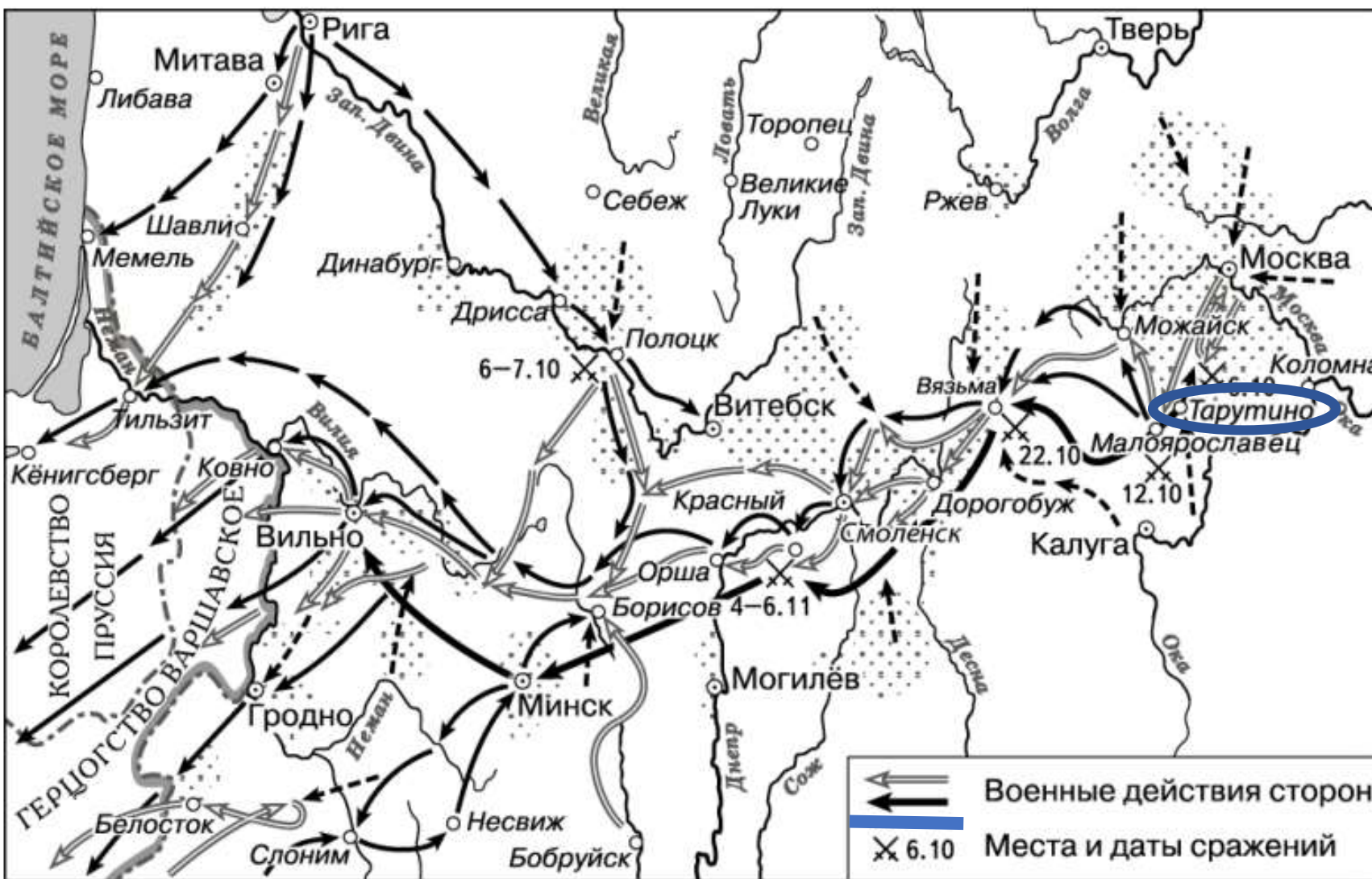
**Фицнер Юлия Александровна,
руководитель отдельной дисциплины
(история, обществознание и география),
филиала НВМУ в г. Мурманске**

Перевод баллов ЕГЭ по истории в 2025 году

Первичный балл	Вторичный (тестовый) балл		Первичный балл	Вторичный (тестовый) балл		Первичный балл	Вторичный (тестовый) балл
0	0		15	45		30	74
1	4		16	47		31	76
2	8		17	49		32	78
3	12		18	51		33	80
4	16		19	53		34	82
5	20		20	55		35	84
6	24		21	57		36	87
7	28		22	58		37	89
8	32		23	60		38	91
9	34		24	62		39	93
10	36		25	64		40	95
11	38		26	66		41	97
12	40		27	68		42	100
13	42		28	70			
14	44		29	72			

(атрибуция карты, работа с картографической информацией с использованием контекстных знаний)

Номер задания	Проверяемое содержание – раздел курса	Коды проверяемых элементов содержания	Проверяемые умения, виды деятельности	Коды проверяемых предметных требований (по кодификатору)	Уровень сложности задания	Максимальный балл за выполнение задания	Примерное время выполнения задания (мин.)
6	Один из периодов, изучаемых в курсе истории России (с древнейших времён до начала XXI в.)	1–4, 7–10	Работа с письменным историческим источником	11, 12	П	2	5
7	История России с древнейших времён до начала XXI в.	1–4, 7–10	Знание основных фактов, процессов, явлений истории культуры России (задание на установление соответствия)	3, 5, 7	Б	2	4
8	Великая Отечественная война	8	Работа с изображениями	11	Б	1	4
9	Один из периодов, изучаемых в курсе истории России (с древнейших времён до начала XXI в.)	1–4, 7–10	Работа с исторической картой (схемой)	14	Б	1	4
10	Один из периодов, изучаемых в курсе истории России (с древнейших времён до начала XXI в.)	1–4, 7–10	Работа с исторической картой (схемой)	14	Б	1	4
11	Один из периодов, изучаемых в курсе истории России (с древнейших времён до начала XXI в.)	1–4, 7–10	Работа с исторической картой (схемой) (соотнесение картографической информации с текстом)	14	П	1	4
12	Один из периодов, изучаемых в курсе истории России (с древнейших времён до начала XXI в.)	1–4, 7–10	Работа с исторической картой (схемой) (множественный выбор)	14	Б	2	4



Знание курса, знание базовой географии, внимательность!

- исторический период (век, год) или название события, которое отражено на карте (схеме);
- исторического деятеля, с которым связаны события, обозначенные на схеме;
- географические объекты (города, реки и т.п.), отмеченные на карте.

9. Напишите фамилию главнокомандующего войсками, действия которых обозначены на схеме чёрными стрелками



КУТУЗОВ

10. Укажите название столицы Российского государства в период, когда произошли отражённые на схеме события.

САНКТ-ПЕТЕРБУРГ

Задание 11

ФОРМАТ

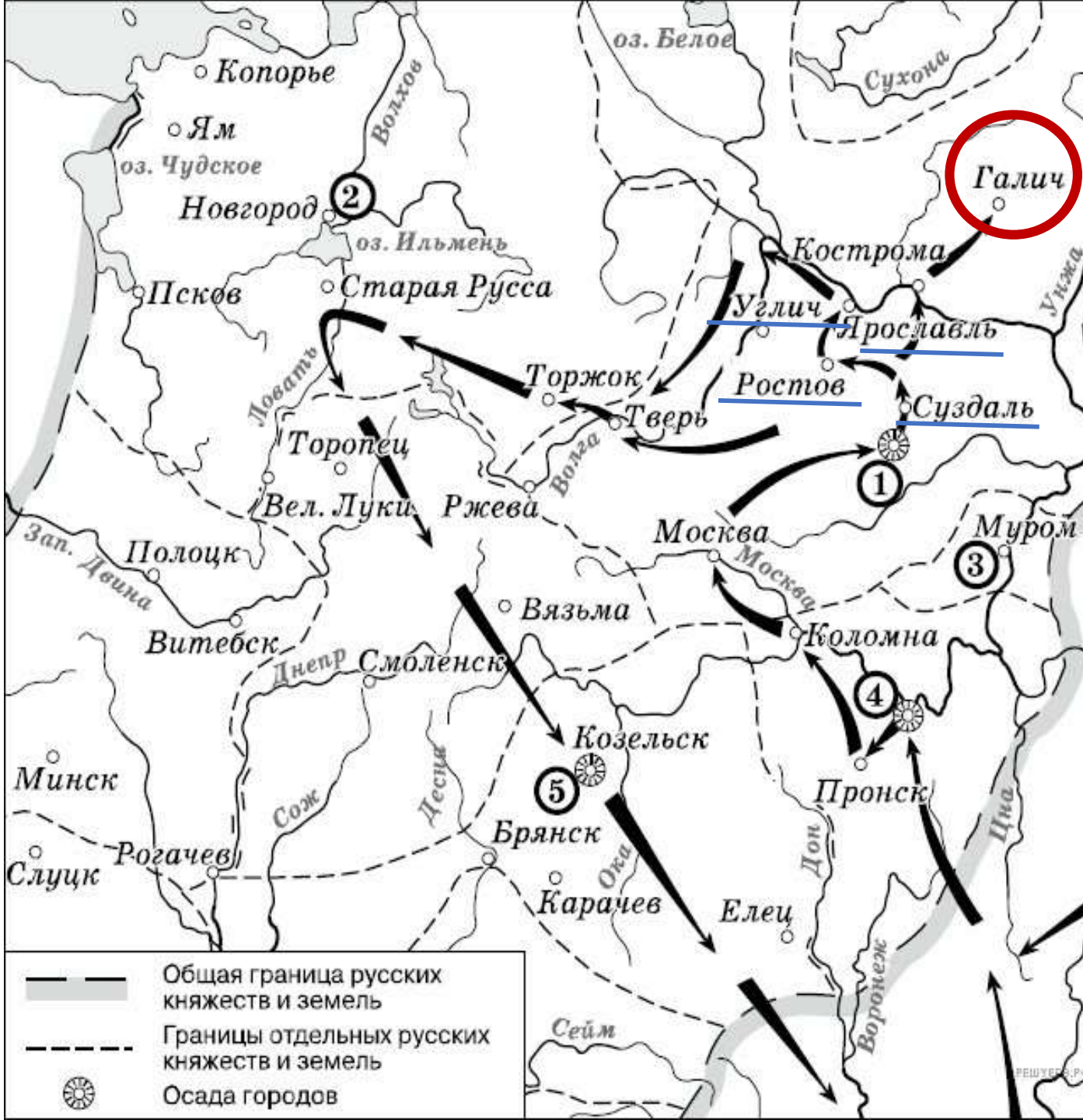
(соотнесение картографической информации с текстом)

Номер задания	Проверяемое содержание – раздел курса	Коды проверяемых элементов содержания	Проверяемые умения, виды деятельности	Коды проверяемых предметных требований (по кодификатору)	Уровень сложности задания	Максимальный балл за выполнение задания	Примерное время выполнения задания (мин.)
6	Один из периодов, изучаемых в курсе истории России (с древнейших времён до начала XXI в.)	1–4, 7–10	Работа с письменным историческим источником	11, 12	П	2	5
7	История России с древнейших времён до начала XXI в.	1–4, 7–10	Знание основных фактов, процессов, явлений истории культуры России (задание на установление соответствия)	3, 5, 7	Б	2	4
8	Великая Отечественная война	8	Работа с изображениями	11	Б	1	4
9	Один из периодов, изучаемых в курсе истории России (с древнейших времён до начала XXI в.)	1–4, 7–10	Работа с исторической картой (схемой)	14	Б	1	4
10	Один из периодов, изучаемых в курсе истории России (с древнейших времён до начала XXI в.)	1–4, 7–10	Работа с исторической картой (схемой)	14	Б	1	4
11	Один из периодов, изучаемых в курсе истории России (с древнейших времён до начала XXI в.)	1–4, 7–10	Работа с исторической картой (схемой) (соотнесение картографической информации с текстом)	14	П	1	4
12	Один из периодов, изучаемых в курсе истории России (с древнейших времён до начала XXI в.)	1–4, 7–10	Работа с исторической картой (схемой) (множественный выбор)	14	Б	2	4

! Названия есть на карте!

11. Прочтите текст о событиях, отражённых на схеме, и, **используя схему**, укажите название города, которое пропущено в этом тексте.

«На северо-восточном направлении из монгольских военачальников известен только Бурундай. Эти силы пошли **от Суздаля к Ростову**, выделив восточный отряд, прошедший через **Стародуб, Городец, Кострому и Ярославль** и достигший на **севере** _____. В течение 3-х недель после взятия Владимира Бурундай подошёл к Сити со стороны Углича.»



Задание 12 (множественный выбор)

ФОРМАТ

Номер задания	Проверяемое содержание – раздел курса	Коды проверяемых элементов содержания	Проверяемые умения, виды деятельности	Коды проверяемых предметных требований (по кодификатору)	Уровень сложности задания	Максимальный балл за выполнение задания	Примерное время выполнения задания (мин.)
6	Один из периодов, изучаемых в курсе истории России (с древнейших времён до начала XXI в.)	1–4, 7–10	Работа с письменным историческим источником	11, 12	П	2	5
7	История России с древнейших времён до начала XXI в.	1–4, 7–10	Знание основных фактов, процессов, явлений истории культуры России (задание на установление соответствия)	3, 5, 7	Б	2	4
8	Великая Отечественная война	8	Работа с изображениями	11	Б	1	4
9	Один из периодов, изучаемых в курсе истории России (с древнейших времён до начала XXI в.)	1–4, 7–10	Работа с исторической картой (схемой)	14	Б	1	4
10	Один из периодов, изучаемых в курсе истории России (с древнейших времён до начала XXI в.)	1–4, 7–10	Работа с исторической картой (схемой)	14	Б	1	4
11	Один из периодов, изучаемых в курсе истории России (с древнейших времён до начала XXI в.)	1–4, 7–10	Работа с исторической картой (схемой) (соотнесение картографической информации с текстом)	14	П	1	4
12	Один из периодов, изучаемых в курсе истории России (с древнейших времён до начала XXI в.)	1–4, 7–10	Работа с исторической картой (схемой) (множественный выбор)	14	Б	2	4



Не указано

количество ответов!

Какие суждения, относящиеся к схеме, являются верными? Запишите цифры, под которыми они указаны.

- 1) Обозначенный на схеме цифрой «1» город стал столицей Древнерусского государства.
- 2) Князь, осуществивший обозначенный на схеме стрелками поход, совершил впоследствии успешный поход к городу, обозначенному на схеме цифрой «2».
- 3) Поход, обозначенный в легенде схемы и на схеме стрелками, проходил через земли племён эстов.
- 4) Обозначенный на схеме цифрой «4» город был сожжён в середине X в. войском во главе с княгиней Ольгой.
- 5) На схеме обозначен город, в котором князь Владимир Святославович принял крещение.
- 6) Государство, территория которого обозначена на схеме цифрой «5», в VIII в. приняло ислам.



Из опыта работы с исторической картой (схемой)

1. Разобраться с базовой географией (знать стороны света, географические объекты и т.д.)



Основные **озёра** для решения заданий №9 - №12: Ильмень, Ладожское, Чудское.

Основные **города** для решения заданий №9 - №12: Москва, Санкт-Петербург, Новгород, Киев, Смоленск, Казань, Астрахань, Владивосток, Нижний Новгород, Владимир, Архангельск, Волгоград, Севастополь.

Основные **реки** для решения заданий №9 - №12: Волга, Днепр, Нева, Урал (Яик), Днестр, Дон.

Основные **моря** для решения заданий №9 - №12: Балтийское, Чёрное, Азовское, Средиземное, Каспийское.

Seterra (<https://online.seterra.com/ru>)



Motovskikh (<https://motovskikh.ru/>)



Из опыта работы с исторической картой (схемой)

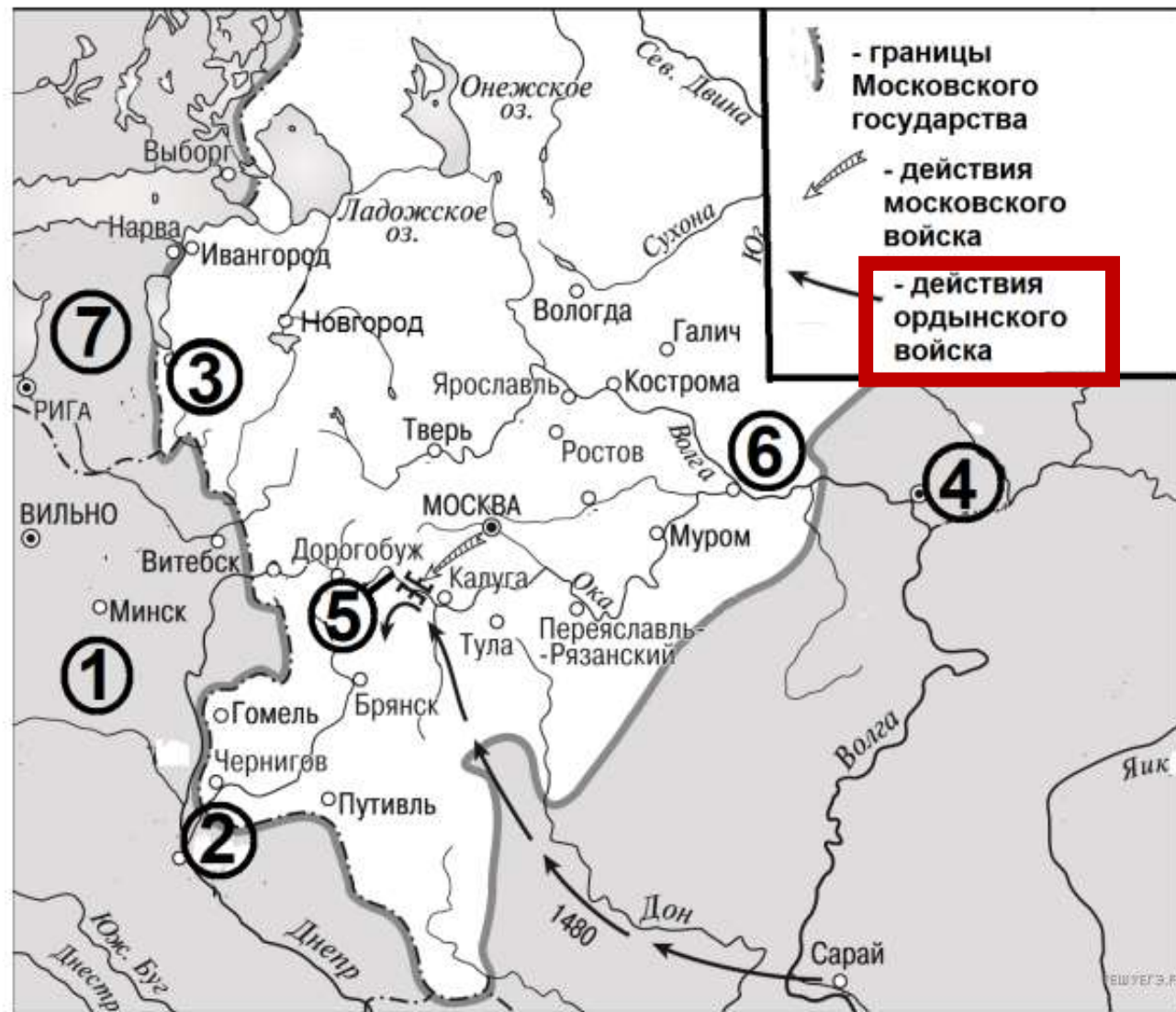
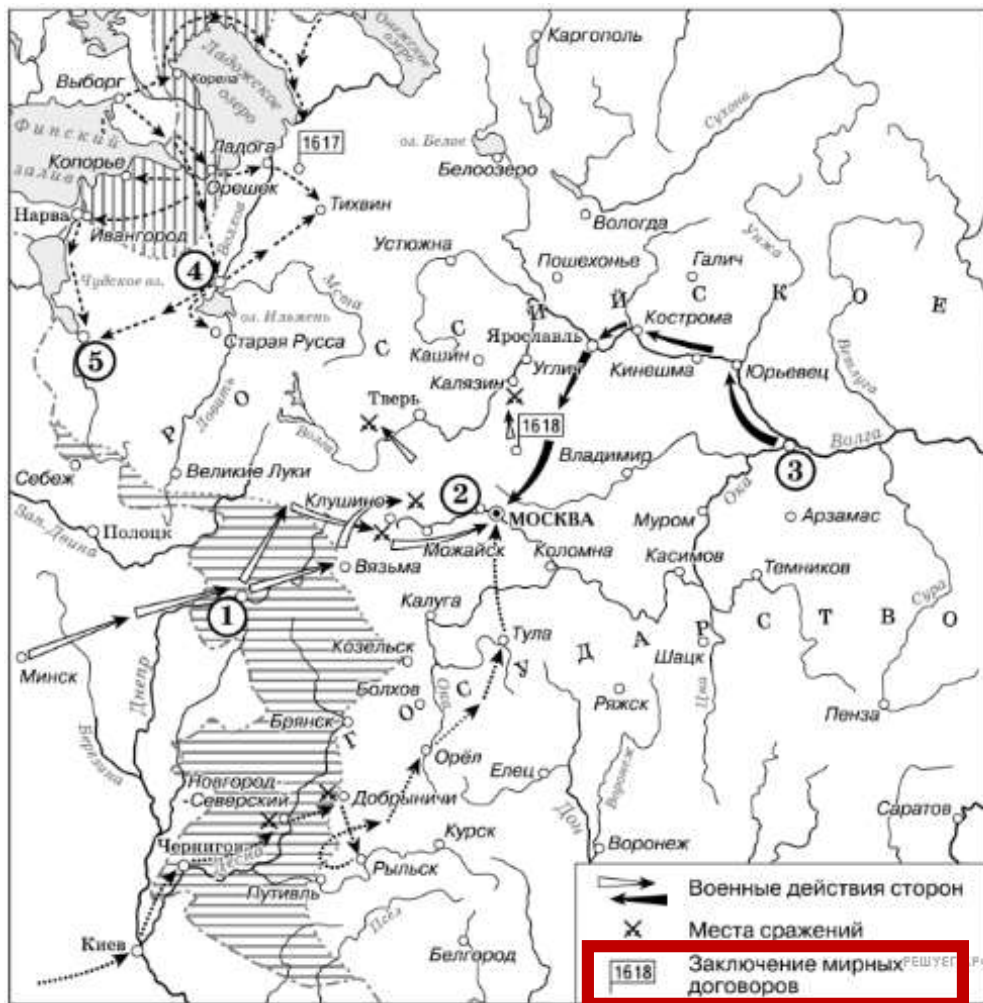
1. Разобраться с базовой географией (знать стороны света, географические объекты и т.д.)
2. Выучить теоретический материал.



- ❖ Подкасты «Arzamas» (лекции, статьи).
- ❖ Цифровой тренажер: платформа «Яндекс.Репетитор» (использует ИИ для анализа ошибок и подбора заданий).
- ❖ Мобильные приложения: «История.РФ» (аналог Quizlet с интерактивными карточками по датам и персоналиям).
- ❖ Мнемотехники: курс «Суперпамять от А до Я» учит связывать даты с образами (Пример: 988 г. – «Владимир крестит Русь, держа в руках 9 хлебов и 88 свечей»).

Из опыта работы с исторической картой (схемой)

1. Разобраться с базовой географией (знать стороны света, географические объекты и т.д.)
2. Выучить теоретический материал.
3. Обращайте внимание на легенду карты!



Из опыта работы с исторической картой (схемой)

1. Разобраться с базовой географией (знать стороны света, географические объекты и т.д.).
2. Выучить теоретический материал.
3. Обращайте внимание на легенду карты!
4. Слова – маркеры (главный «ключ» к решению заданий).

Обращаем внимание на:

- ✓ города, их количество, их название;
- ✓ реки, озёра, моря;
- ✓ границы государств;
- ✓ стрелочки, куда они направлены и откуда



Оренбург	–	Чкалов
Санкт-Петербург	–	Ленинград, Петроград
Тольятти	–	Ставрополь (Ставрополь-на-Волге)
Пермь	–	Молотов
Ставрополь	–	Ворошиловск
Самара	–	Куйбышев
Тверь	–	Калинин
Владикавказ	–	Орджоникидзе
Волгоград	–	Сталинград – Царицын
Калининград	–	Кенигсберг
Мурманск	–	Романов-на-Мурмане
Киров	–	Вятка
Набережные Челны	–	Брежнев
Екатеринбург	–	Свердловск
Краснодар	–	Екатеринодар
Нижний Новгород	–	Горький
Новосибирск	–	Новониколаевск

АНАЛИЗИРУЕМ!



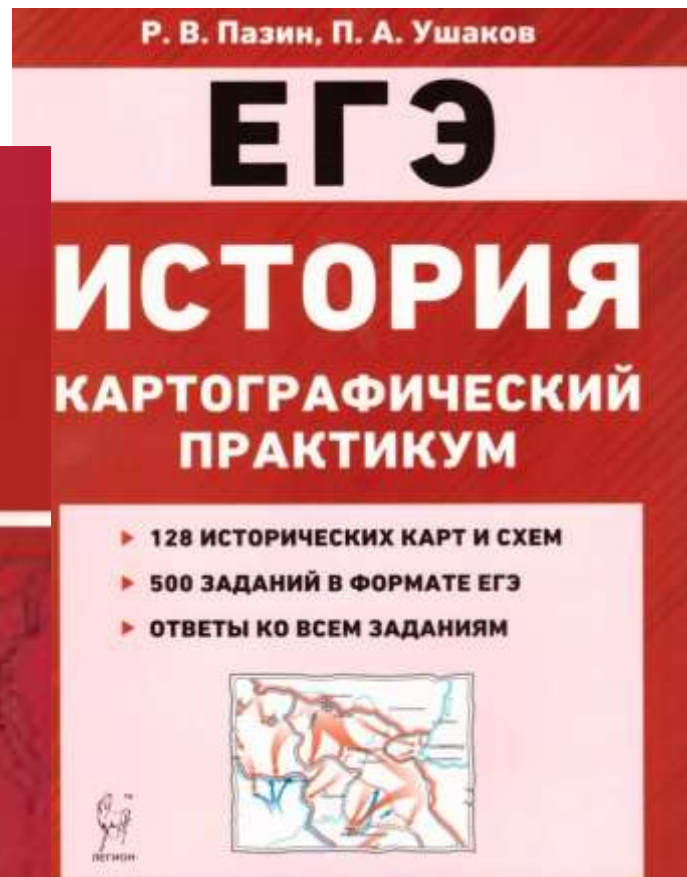

Слова – маркеры:

- ✓ фраза в легенде «места и даты сражений»;
- ✓ даты: 1758 г., 1759 г., 1768 г.;
- ✓ город Кёнигсберг;
- ✓ стрелки по территории Пруссии.

Семилетняя война

Из опыта работы с исторической картой (схемой)

1. Разобраться с базовой географией (знать стороны света, географические объекты и т.д.).
2. Выучить теоретический материал.
3. Обращайте внимание на легенду карты!
4. Слова – маркеры (главный «ключ» к решению заданий).
5. Практика.





ФИПИ

История

I. Рекомендации по самостоятельной подготовке

- **Рекомендации по самостоятельной подготовке к ЕГЭ по истории (2025 г.)**
- Рекомендации по самостоятельной подготовке к ЕГЭ по истории (2024 г.)
- Рекомендации по самостоятельной подготовке к ЕГЭ по истории (2023 г.)
- Рекомендации по самостоятельной подготовке к ЕГЭ по истории (2022 г.)
- Рекомендации по самостоятельной подготовке к ЕГЭ по истории (2020 г.)

II. Подготовка по темам:

- История России и всеобщая история с древнейших времён до начала XVI в. (pdf)
- История России в 1505 – 1682 гг. (pdf)
- История России с 1682 до 1801 г. (pdf)
- История России с 1801 г. до 1914 г. (pdf)
- История России с 1914 г. по настоящее время (pdf)
- Всеобщая история с древнейших времен до настоящего времени
- Тренировочные задания (pdf)

III. Видеоконсультации

- **Онлайн-консультация "ЕГЭ на все 100" по подготовке к ЕГЭ по истории**

Тренировочные задания

Задания линии 1

<http://ege.fipi.ru/os11/xmodules/qprint/openlogin.php?gst=E1DC3A284B5EB7E14C62F568F25927C6>
<http://ege.fipi.ru/os11/xmodules/qprint/openlogin.php?gst=EA4D1DF0FDEFAE904C78BB77D43F0F79>

Задания линии 2

<http://ege.fipi.ru/os11/xmodules/qprint/openlogin.php?gst=B278E557D53E9D1B44C76C050BFCE42E>
<http://ege.fipi.ru/os11/xmodules/qprint/openlogin.php?gst=95954679BBA98A9C49A79F15DD487891>

Задания линии 3

<http://ege.fipi.ru/os11/xmodules/qprint/openlogin.php?gst=BDFE8E46ACB9850B491C0F2B636DA848>
<http://ege.fipi.ru/os11/xmodules/qprint/openlogin.php?gst=3CF263AACFE68A9044A6A2D33023F87F3>

Задания линии 5

<http://ege.fipi.ru/os11/xmodules/qprint/openlogin.php?gst=E2B5C3266DABBA64700C50970B93D43>
<http://ege.fipi.ru/os11/xmodules/qprint/openlogin.php?gst=F2974F6DCEE4A14C4854CEEC7DF04C34>

Задания линии 6

<http://ege.fipi.ru/os11/xmodules/qprint/openlogin.php?gst=E05A7C16D44986A94B5804837F5E986F>
<http://ege.fipi.ru/os11/xmodules/qprint/openlogin.php?gst=98E1055A706597A043C45C13EFDBDE0C>

Задания линии 8-9 и 11

<http://ege.fipi.ru/os11/xmodules/qprint/openlogin.php?gst=DDF20538E7A4B94A4EEA4508ABF77A3F-ZP>
<http://ege.fipi.ru/os11/xmodules/qprint/openlogin.php?gst=2ED196E87BBC9C194B3335AE9109DD4-ZP>

Задания линии 7

<http://ege.fipi.ru/os11/xmodules/qprint/openlogin.php?gst=A9C98C50917FA2F24ABE1283405020DF>
<http://ege.fipi.ru/os11/xmodules/qprint/openlogin.php?gst=9E8882FA1016876245C329709FE9A2F1>

Задания линии 12-13

<http://ege.fipi.ru/os11/xmodules/qprint/openlogin.php?gst=0C6B011165329A764C43B21F04B1894C-ZP>
<http://ege.fipi.ru/os11/xmodules/qprint/openlogin.php?gst=93E3BABB10EDB00C4BAFFC3DC1A24892-ZP>